


Trabajo práctico n°3


Parte 2: Esquila

1. Explique de forma sintética de que se trata la doble esquila.
2. Indique qué propiedades de la lana se ven beneficiadas con la esquila pre-parto.
3. Indique las diferencias de los dos métodos de esquila.
4. ¿Qué características debe presentar un galpón de esquila para realizar la esquila desmaneada secuencial?
5. Indique cuál es el fundamento de la escala Bradford o inglesa.
6. Indique las técnicas que exige el programa PROLANA.
7. ¿Cómo se realiza la muestra de calado? qué información objetiva nos brinda.
8. ¿Cómo se realiza la muestra del puño? qué información objetiva nos brinda.
9. Una vez hecha la "tirada de vellón", ¿qué caracteres observa el acondicionador?
10. Complete la tarjeta PROLANA para un fardo de lana vellón de categoría borrega de finura superior al promedio del lote de la raza Corriedale.

PROVINCIA:	ZAFRA:
ARGENTINA	PRODUCTOR:
	ESTABLECIMIENTO:
PROLANA	ACONDICIONADOR:
CLASE DE LANA:	CATEGORIA DEL ANIMAL:
	KG.:
	N° DE FARDO:


Color:

11. Complete la tarjeta PROLANA para un fardo de lana no vellón obtenido de ovinos Romney Marsh, de categoría capón con las siguientes características: pedazos de lana de cogote con elevada concentración de vegetales (coirón).

PROVINCIA:	ZAFRA:
ARGENTINA	PRODUCTOR:
	ESTABLECIMIENTO:
PROLANA	ACONDICIONADOR:
CLASE DE LANA:	CATEGORIA DEL ANIMAL:
	KG.:
	N° DE FARDO:

Color:

12. Complete la tarjeta PROLANA para un fardo de lana vellón cuya finura es notoriamente más gruesa que la masa del lote obtenido de categoría ovejas de la raza Merino.

PROVINCIA:	ZAFRA:
ARGENTINA	PRODUCTOR:
	ESTABLECIMIENTO:
PROLANA	ACONDICIONADOR:
CLASE DE LANA:	CATEGORIA DEL ANIMAL:
	KG.:
	N° DE FARDO:

Color: